



قسم التربية الموسيقية



نموذج اجابة مادة قواعد الموسيقى العالمية  
(الفرقة الأولى – يناير 2012 / 2013)


الزمن / ساعتان  
الدرجة / ( 20 )

السؤال الأول

(10 درجات)

أ ) أكتب دليل كل من السلالم التالية مع تدوين السلم على المدرج .

( مي / ك - لا / ك - سي / ك - فا / # ك )



ب) أكتب اسم السلم الذي يحتوي دليلا على العلامات التالية ، مع تدوين السلم على المدرج .


( # 1 - # 2 - # 3 - # 4 )

السلم الذي يحتوي دليلا على # 1 هو سلم لا الكبير

السلم الذي يحتوي دليلا على # 2 هو سلم سي الكبير

السلم الذي يحتوي دليلا على # 3 هو سلم فا # الكبير

السلم الذي يحتوي دليلا على # 4 هو سلم دو # الكبير




(10 درجات)

السؤال الثاني

أ) دون المسافة المطلوبة من درجة الركوز المعطاه



ب) دون التآلف المطلوب من درجة الركوز المعطاه



مع أطيب أمنياتي بالنجاح والتوفيق